








Départ



STOP




ranger - intercaler
lire-écrire
décomposition des nombres

STOP

Passez un







Rejouez le

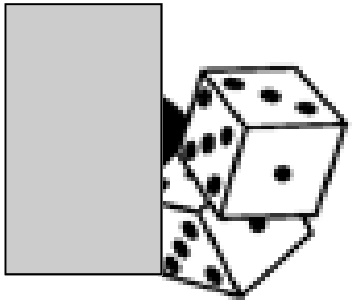
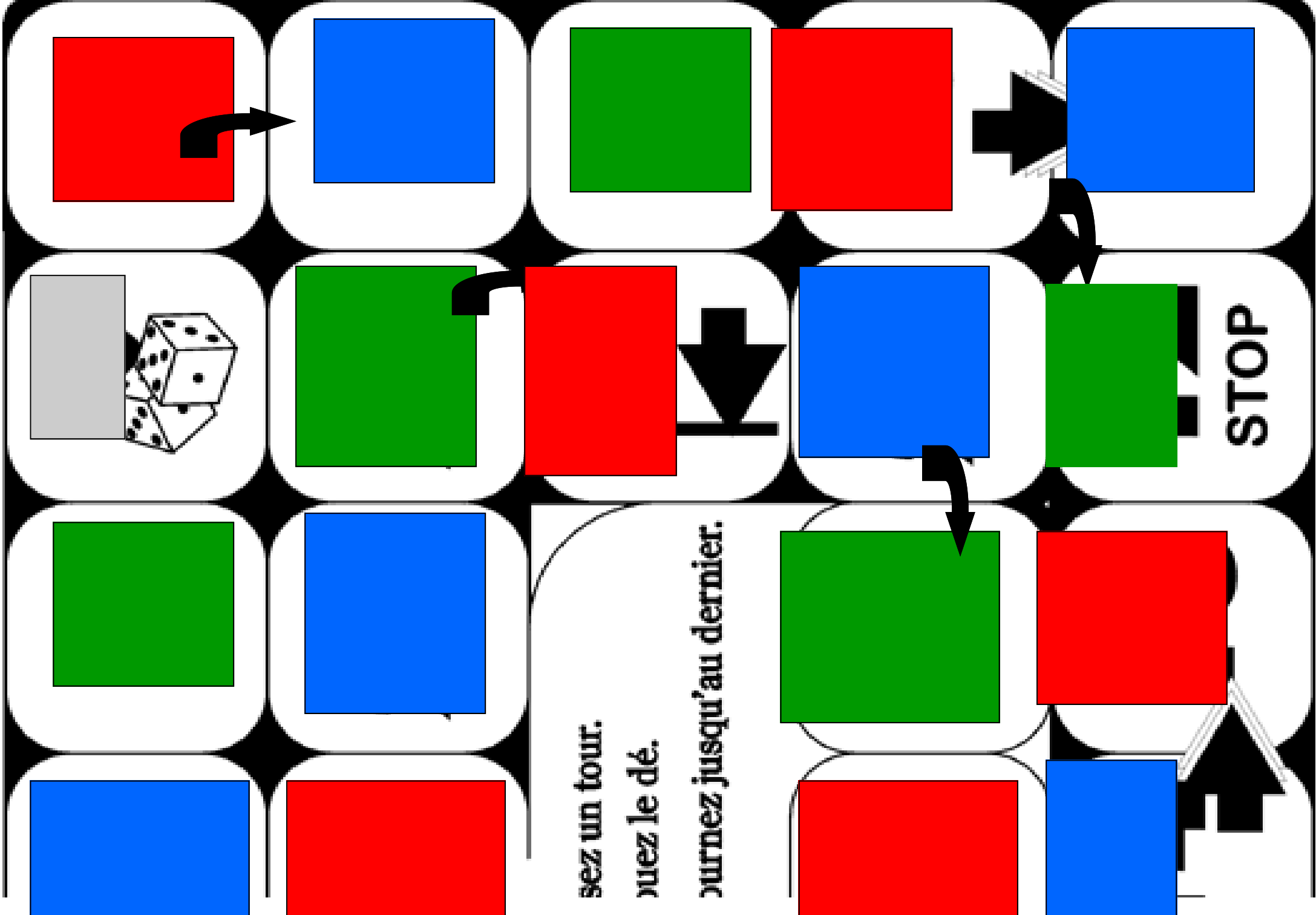


Retournez

30



Arrivée



STOP

Prenez un tour.
 Jetez le dé.
 Déplacez-vous jusqu'au dernier.

Je lis et j'écris le nombre:
Six cent quinze

Je lis et j'écris le nombre:
Deux cent vingt deux

Je lis et j'écris le nombre:
Trois cent trois

Je lis et j'écris le nombre:
Deux cent vingt quatre

Je lis et j'écris le nombre:
Neuf cent quatre vingt dix neuf

Je lis et j'écris le nombre:
Huit cent treize

Je lis et j'écris le nombre:
 $60+800+4$

Je lis et j'écris le nombre:
 $50+900$

Je lis et j'écris le nombre:
 $700+60+4$

Je lis et j'écris le nombre:
 $60+80+7$

Je lis et j'écris le nombre:
 $900+7+9$

Je lis et j'écris le nombre:
 $800+6+50+30+3$

Je lis et j'écris le nombre:
690

Je lis et j'écris le nombre:
201

Je lis et j'écris le nombre:
699

Je lis et j'écris le nombre:
274

Je lis et j'écris le nombre:
633

Je lis et j'écris le nombre:
788

Dans
Huit cent quinze
Quel est le chiffre des unités?

Dans
Cent vingt cinq
Quel est le chiffre des dizaines?

Dans
Six cent six
Quel est le chiffre des
dizaines?

Dans
Trois cent vingt trois
Que représente le chiffre
deux?

Dans
Quatre cent vingt trois
Que représente le chiffre
quatre?

Dans
Neuf cent huit
Que représente le chiffre zéro?

Dans
 $70+500+3$
Quel est le chiffre des unités?

Dans
 $70+90+2$
Quel est le chiffre des dizaines?

Dans
 $700+30+4$
Quel est le chiffre des
centaines?

Dans
674

Quel est le chiffre des unités?

Dans
143

Quel est le chiffre des dizaines?

Dans
278

Quel est le chiffre des
dizaines?

Dans
 $60+800+2$

Que représente le chiffre
deux?

Dans
 $90+10+3$

Que représente le chiffre 1?

Dans
 $900+2+60+10+7$

Que représente le chiffre
neuf?

Dans
472

Que représente le chiffre
deux?

Dans
172

Que représente le chiffre un?

Dans
799

Que représente le chiffre neuf?

Quel est le nombre qui vient
avant 900

Quel est le nombre qui vient
avant $90+600$

Quel est le nombre qui vient
avant 675

Quel est le nombre qui vient
après 679

Quel est le nombre qui vient
après $90+400+9$

Quel est le nombre qui vient
après 413

Trouve l'intrus

145 ; 596 ; 432 ; 689

Trouve l'intrus

312 ; 145 ; 966 ; 978

Trouve l'intrus

697 ; 675 ; 688 ; 696

Range les nombre dans l'ordre décroissant :

215 ; 364 ; 124

Range les nombre dans l'ordre décroissant :

678 ; 345 ; 670

Range les nombre dans l'ordre croissant :

648 ; 696 ; 649

Intercale un nombre entre

267 597

Intercale un nombre entre

678 698

Intercale un nombre entre

699 721

Intercale un nombre entre

695 642

Intercale un nombre entre

632..... 698

Intercale un nombre entre

421 429